


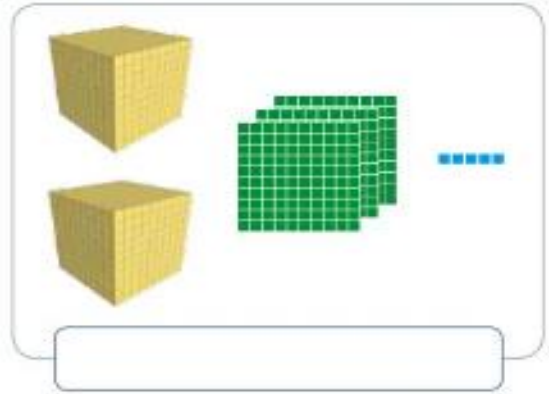
Practica

1. Escribe el número representado en cada caso. Representar

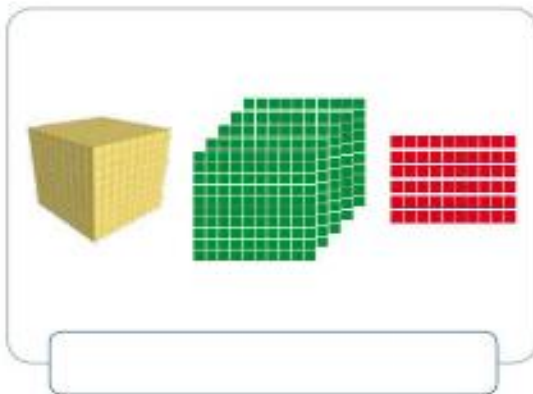
a.



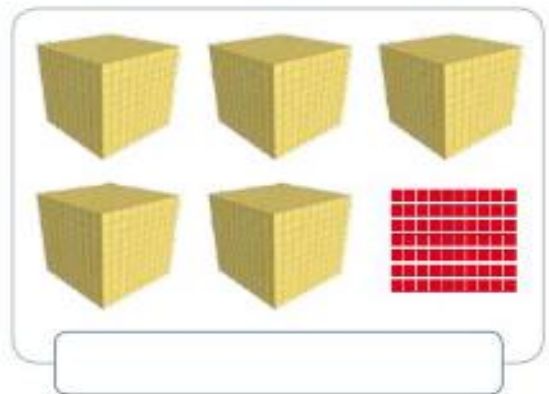
c.



b.



d.



2. Escribe con palabras la cantidad representada en cada caso. Representar

a.



_____ pesos.

b.



_____ pesos.

c.




_____ pesos.

3. Utiliza las claves para representar los números. Representar

 = 1

 = 10

 = 100

 = 1.000

a.

983


b.


3.240

c.

2.031

4. Escribe con palabras los siguientes números. Representar

a. 7.000 

b. 2.896 

c. 5.540 