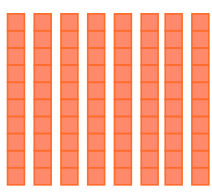

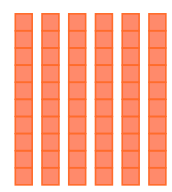
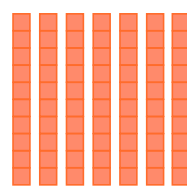



# DÍA 2: REPASAMOS LAS DECENAS Y UNIDADES


## 1. ¿Cuántos cubos hay?

Decenas	Unidades
	
<input type="text"/>	<input type="text"/>

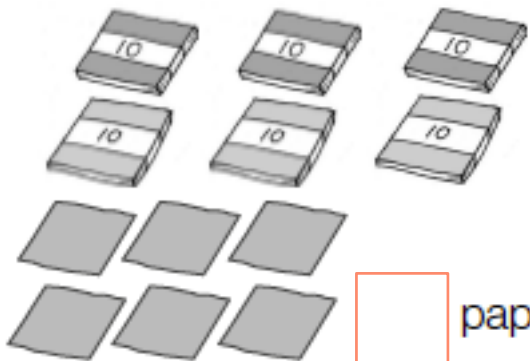
Decenas	Unidades
	
<input type="text"/>	<input type="text"/>

Decenas	Unidades
	
<input type="text"/>	<input type="text"/>

## 2. ¿Cuántos hay?



lápices.



papeles.

## 3. Completa:

- 8 decenas y 4 unidades son:

- 7 decenas son:

- 6 decenas y 2 unidades son:

- 5 decenas y 9 unidades son: